






INDICE



IL NUMERO

- 4 Quanti tulipani!
- 5 Quanti sono?
- 6 Il cruciverba
- 7-8 Volpe azzurrina
- 9 Grattacapi numerici!
- 10 Indovina la parola
- 11 Figure e numeri
- 12 Cerchiamo gli addendi
- 12 Il trenino dei numeri
- 13 Libri che passione!
- 14-16 Il decoupage
- 17-18 **LOGICA@LAB**
Forza 10
- 19 Autobiografia cognitiva Laboratorio
"Forza 10"

SPAZIO E FIGURE

- 20 Sai usare l'arco? Tira le frecce!
- 21 Figure e colori

- 22 Sai giocare a tris?
- 23 Aguzza la vista
- 24 Le forme simili
- 25 **LOGICA@LAB**
Le forbici e tanta concentrazione
- 26 Autobiografia cognitiva Laboratorio
"Le forbici e tanta concentrazione"

MISURE

- 27 **LOGICA@LAB**
La crema della nonna
- 28 Autobiografia cognitiva Laboratorio
"La crema della nonna"
- 29 **LOGICA@LAB**
Forza 10
- 31 **LOGICA@LAB**
Le forbici e tanta concentrazione



IL NUMERO

QUANTI TULIPANI!

- CERCHIA DI BLU IL VASO CHE CONTIENE **TANTI** TULIPANI
- CERCHIA DI ROSSO IL VASO CHE CONTIENE **POCHI** TULIPANI
- CERCHIA DI VERDE IL VASO CHE CONTIENE **TUTTI** TULIPANI ROSSI
- CERCHIA DI GIALLO IL VASO CHE CONTIENE **NESSUN** TULIPANO
- CERCHIA DI VIOLA IL VASO CHE CONTIENE **POCHI** TULIPANI GIALLI
- CERCHIA DI ROSA IL VASO CHE CONTIENE **NESSUN** TULIPANO GIALLO

PUOI CERCHIARE ANCHE DUE VOLTE.



QUANTI SONO?





● OSSERVA GLI ARMADI, POI RISPONDI **V** (VERO) O **F** (FALSO)

- I CAPPELLI SONO **TANTI QUANTI** I PANTALONCINI V F
- I CAPPELLI SONO DI **PIÙ** DELLE MAGLIETTE V F
- LE MAGLIETTE SONO DI **PIÙ** DELLE BORSE V F
- I PANTALONCINI SONO DI **MENO** DELLE BORSE V F
- LE MAGLIETTE SONO **TANTE QUANTE** LE BORSE V F
- I CAPPELLI SONO DI **MENO** DELLE MAGLIETTE V F

IL CRUCIVERBA

COMPLETA IL CRUCIVERBA.



ORIZZONTALI

- 1 – SEGUE IMMEDIATAMENTE 16
- 3 – È IL NUMERO CHE PRECEDE 13
- 11 – È FORMATO DA 8 UNITÀ E 1 DECINA
- 13 – È FORMATO DA 1 DECINA E 4 UNITÀ
- 15 – PRECEDE 16


VERTICALI

- 3 – SEGUE 10
- 4 – SEGUE IMMEDIATAMENTE 19
- 5 – È FORMATO DA 1 DECINA E 7 UNITÀ
- 8 – SEGUE 20
- 9 – PRECEDE 19
- 13 – SEGUE 14



VOLPE AZZURRINA

IN UNA CESTA DI FRUTTA SONO SISTEMATE:
3 MELE, 6 PERE, 4 BANANE, 8 FRAGOLE.



LA VOLPE AZZURRINA CON L'ACQUOLINA IN BOCCA
MANGIÒ SUBITO: 2 MELE, METÀ PORZIONE DI PERE,
E TUTTE LE FRAGOLE. NON ASSAGGIÒ NEANCHE UNA
BANANA PERCHÉ ERA SAZIA.

■ RISPONDI


- QUANTI FRUTTI MANGIA LA VOLPE?
- QUANTE MELE NON MANGIA LA VOLPE?
- QUANTE PERE RESTANO?
- QUANTE BANANE NON SONO STATE MANGIATE?
- QUANTE FRAGOLE RESTANO?





- ORA DISEGNA NELLA CESTA TUTTI I FRUTTI RIMASTI.

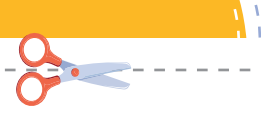
FRUTTI RIMASTI



- QUANTI SONO?
- I FRUTTI RIMASTI SONO PIÙ O MENO DI UNA DECINA?

INDICA **V** (VERO) O **F** (FALSO).

- LA VOLPE POSSIEDE UNA CODA LUNGA E FOLTA V F
- LA VOLPE VIVE IN PIANURA V F
- LA VOLPE SI RIPRODUCE CON LE UOVA V F
- LA VOLPE HA UN MUSO APPUNTITO V F
- LA VOLPE POSSIEDE LE ORECCHIE MOLTO LUNGHE V F
- IL PELO È FITTO E ROSSICCIO V F
- LA VOLPE VIVE NEI BOSCHI E NELLE MONTAGNE V F



GRATTACAPI NUMERICI!

■ LEGGI LE DOMANDE E RISPONDI.

QUALE NUMERO
PRECEDE 19
E SEGUE 16,
MA NON È 17?

RISPOSTA:



QUALE NUMERO
SEGUE 12,
PRECEDE 15,
MA NON È 13?

RISPOSTA:



QUALI NUMERI
SEGUONO 10,
PRECEDONO 15,
MA NON SONO
IL 12?

RISPOSTA:



INDOVINA LA PAROLA

- SCRIVI LA LETTERA CHE CORRISPONDE AL NUMERO SCOMPOSTO NELLA CORNICE.
- LEGGI IN ORDINE LE LETTERINE E SCOPRI LA PAROLA.

1 da e 5 u →

1 da e 8 u →

1 da e 0 u →

1 da e 7 u →

1 da e 9 u →

1 da e 4 u →

1 da e 6 u →

1 da e 3 u →

F	17	T	14
A	11	E	18
P	15	U	12
T	16	R	20
E	19	O	13

- QUALI LETTERE NON HAI USATO?

.....










- RISCRIVI I NUMERI IN ORDINE DECRESCENTE NELLA TABELLA.




--	--	--	--	--	--	--	--	--	--



FIGURE E NUMERI

■ COSTRUISCI L'ADDIZIONE ASSOCIANDO AD OGNI FIGURA IL RELATIVO ADDENDO.

						
4	1	5	8	6	3	7

 +  +  = $4 + 6 + 3 = \dots\dots\dots$




 +  +  =

 +  +  =

 +  +  =

 +  +  =

 +  +  =

 +  +  =

 +  +  =



CERCHIAMO GLI ADDENDI

■ RISOLVI.

MARIA HA PENSATO DUE NUMERI, LI HA ADDIZIONATI E HA OTTENUTO 12. UNO DEI NUMERI È MAGGIORE DI 6.

■ TROVA ALMENO 6 SOLUZIONI POSSIBILI E SCRIVILE NELLE CASELLE.



--	--	--	--	--	--

IL TRENINO DEI NUMERI

■ COMPLETA OGNI SERIE DI VAGONI CON IL NUMERO MANCANTE.



■ LEGA TUTTI I VAGONI ALLA LOCOMOTIVA METTENDOLI NELL'ORDINE ESATTO.



LIBRI CHE PASSIONE!

● LEGGI IL TESTO E RISPONDI.

ANGELO E LORENZA AMANO LEGGERE.
DURANTE L'ANNO ANGELO HA LETTO
10 LIBRI SUGLI ANIMALI
E 7 LIBRI DI AVVENTURA.
LORENZA HA LETTO
5 LIBRI DI FANTASCIENZA
E 8 DI STORIA.



- QUANTI LIBRI HA LETTO ANGELO IN TUTTO?
- QUANTI LIBRI HA LETTO LORENZA IN TUTTO?
- CHI HA LETTO PIÙ LIBRI?
- QUANTI LIBRI HA LETTO IN PIÙ?
- TU QUALI LIBRI PREFERISCI?
-
- QUANTI LIBRI HAI LETTO QUEST'ANNO?




IL DECOUPAGE

ATTIVITÀ DISTINTA IN DUE MOMENTI

NELLA CLASSE PRIMA LINA, MATILDE E BEATRICE REALIZZANO IN GRUPPO MANUFATTI IN DECOUPAGE. NEL MESE DI MARZO OGNI GRUPPO HA CREATO LE SEGUENTI SCATOLE:


- GRUPPO DI BAMBINI GUIDATO DA LINA
SCATOLE CON DECORAZIONI DI FIORI.



- GRUPPO DI BAMBINI GUIDATO DA MATILDE
SCATOLE CON SOGGETTI ANIMALI.



- GRUPPO DI BAMBINI GUIDATO DA BEATRICE
SCATOLE CON DECORAZIONI DI FRUTTA.






■ OSSERVA IL DISEGNO E COMPLETA

- NUMERO DI SCATOLE REALIZZATO DAL PRIMO GRUPPO
- NUMERO DI SCATOLE REALIZZATO DAL SECONDO GRUPPO
- NUMERO DI SCATOLE REALIZZATO DAL TERZO GRUPPO



● PER OGNI FRASE SEGNA CON UN X SE È VERA O SE È FALSA.

- IL TERZO GRUPPO HA REALIZZATO IL MAGGIOR NUMERO DI SCATOLE V F
- IL PRIMO GRUPPO HA REALIZZATO UNA SCATOLA IN PIÙ DEL TERZO GRUPPO V F
- I TRE GRUPPI HANNO REALIZZATO IN TUTTO 19 SCATOLE V F
- BEATRICE HA GUIDATO IL GRUPPO DELLE SCATOLE CON SOGGETTI ANIMALI V F
- LINA HA GUIDATO IL GRUPPO DELLE SCATOLE CON DECORAZIONE DI FIORI V F



ALLA FINE DI MAGGIO IL LABORATORIO ARTISTICO SI ARRICCHISCE DI NUOVE SCATOLE DECORATE CON IL DECOUPAGE: TRA MARZO E MAGGIO IL PRIMO GRUPPO NE REALIZZA ALTRE 7, IL SECONDO 6, IL TERZO 9.

● COMPLETA LA TABELLA.

	SCATOLE GIÀ PRONTE A MARZO	SCATOLE REALIZZATE DOPO	NUMERO TOTALE DI SCATOLE
● PRIMO GRUPPO (LINA)			
● SECONDO GRUPPO (MATILDE)			
● TERZO GRUPPO (BEATRICE)			
● TOTALE			



● ADESSO RISPONDI ALLE DOMANDE.

● QUANTE SCATOLE HA REALIZZATO IN TUTTO IL PRIMO GRUPPO?

● QUANTE SCATOLE HA REALIZZATO IN TUTTO IL SECONDO GRUPPO?

● QUANTE IN TUTTO IL TERZO GRUPPO?

● QUANTE SCATOLE SONO GIÀ PRONTE A MARZO COMPLESSIVAMENTE?

● QUANTE SCATOLE SONO PRONTE IN TOTALE PER LA MOSTRA FINALE?


● CHI HA REALIZZATO PIÙ SCATOLE?

.....

● QUANTE DI PIÙ RISPETTO A CIASCUNO DEGLI ALTRI DUE GRUPPI?

.....


.....



FORZA 10!

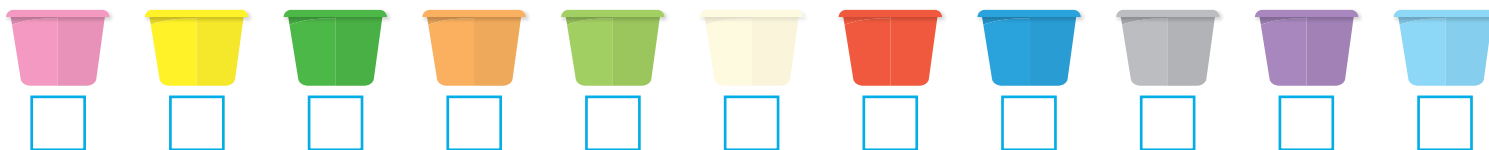
- IN OGNI SECCHIELLO INCOLLA LE CONCHIGLIE NECESSARIE PER OTTENERE SEMPRE 10.

A FINE LIBRO. TROVERAI TANTE CONCHIGLIE PER REALIZZARE QUESTA ATTIVITÀ.

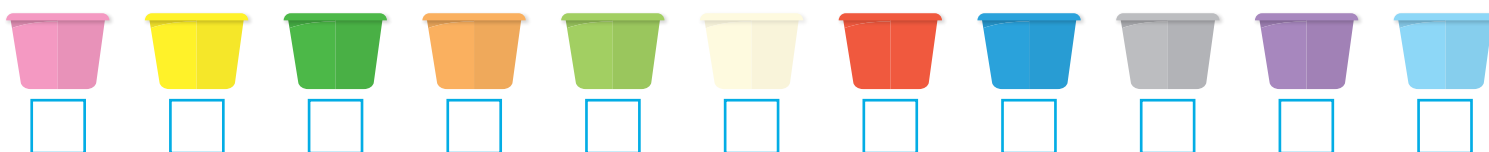


● ADESSO OSSERVA E RISPONDI (INDICA CON UNA X IL SECCHIELLO DEL COLORE ESATTO).

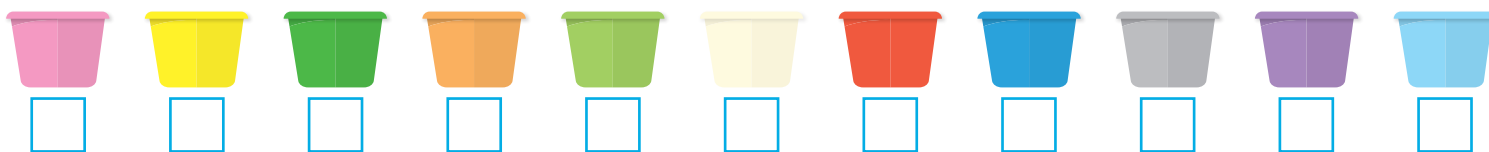
- IN QUALE SECCHIELLO HAI MESSO UN MAGGIOR NUMERO CONCHIGLIE?



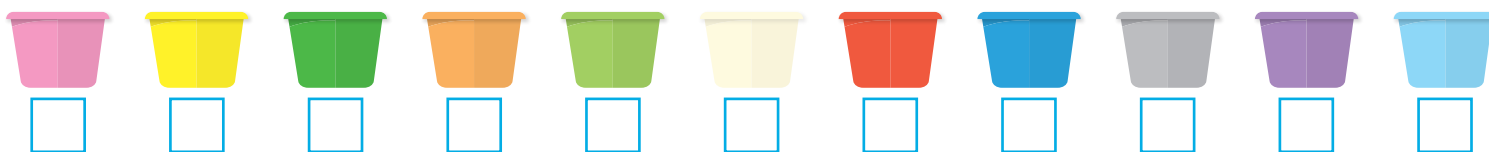
- IN QUALE SECCHIELLO HAI MESSO UN MINOR NUMERO CONCHIGLIE?



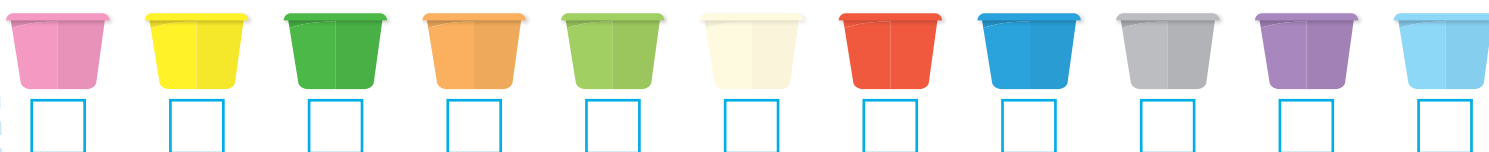
- IN QUALE SECCHIELLO HAI MESSO TANTE CONCHIGLIE QUANTE GIÀ NE CONTENEVA?



- IN QUALE SECCHIELLO NON HAI MESSO CONCHIGLIE?




- IN QUALE SECCHIELLO HAI MESSO TUTTE LE CONCHIGLIE?



LABORATORIO: "FORZA 10"

■ TI È PIACIUTA L' ATTIVITÀ? METTI UNA X SULLA EMOTICON CHE PREFERISCI.


 = MOLTO

 = ABBASTANZA


 = POCO




RITAGLIARE





INCOLLARE




CONTARE



CONCENTRARTI



ESSERE PRECISO



SAI USARE L'ARCO? TIRA LE FRECCIE!

● COMPLETA LA COLORAZIONE RISPETTANDO IL VERSO DELLE FRECCIE E I COLORI.


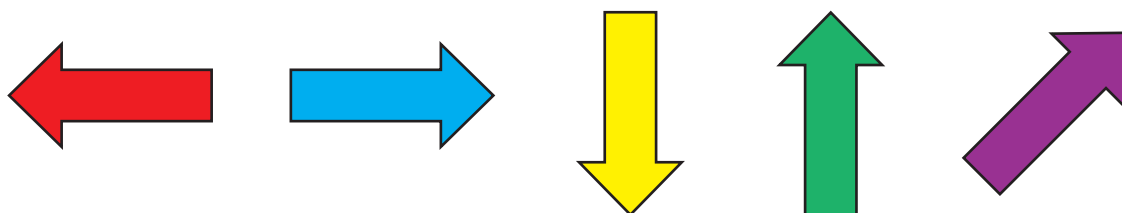



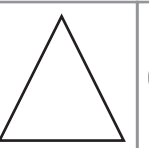


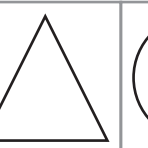







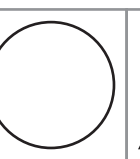
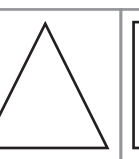



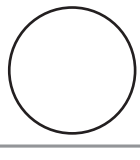

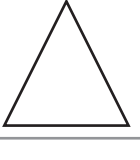
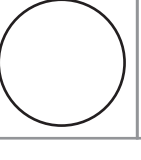




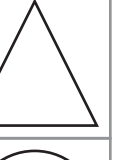
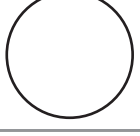


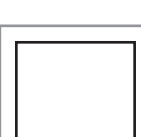
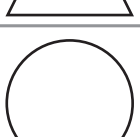



FIGURE E COLORI

● COMPLETA IL RITMO RISPETTANDO L'ORDINE DELLE FORME E DEI COLORI.

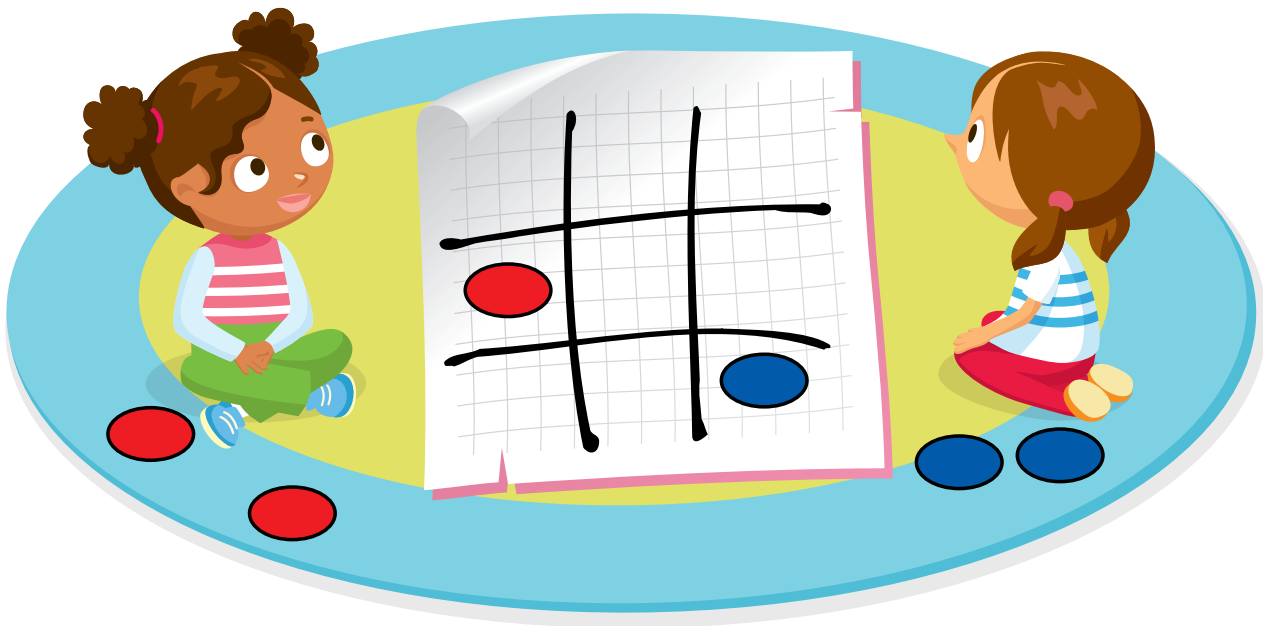


SAI GIOCARE A TRIS?

● LEGGI E RISPONDI

LAURA E SILVANA STANNO GIOCANDO A TRIS;
LAURA GIOCA CON PEDINE ROSSE,
SILVANA CON PEDINE BLU.

● OSSERVA LO SCHEMA DEL GIOCO DOPO LA PRIMA MOSSA.



● SEGNA CON UNA X SE LA FRASE È VERA O FALSA.

● LA PEDINA ROSSA SI TROVA NELLA CASELLA AL
CENTRO A SINISTRA V F

● LA PEDINA BLU SI TROVA NELLA CASELLA A SINISTRA
AL CENTRO V F






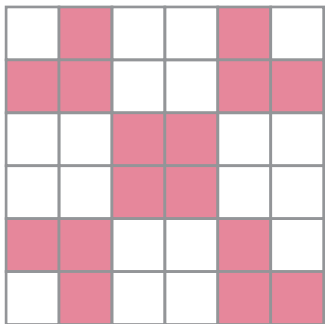




● LA PEDINA ROSSA SI TROVA NELLA CASELLA IN ALTO
A DESTRA V F

● LA PEDINA BLU SI TROVA NELLA CASELLA IN BASSO A
DESTRA V F



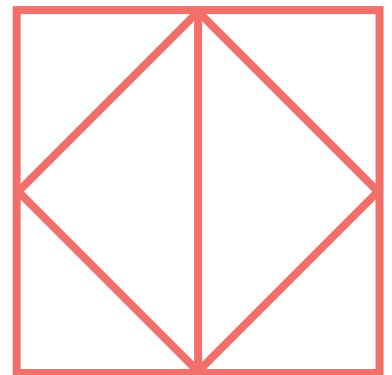








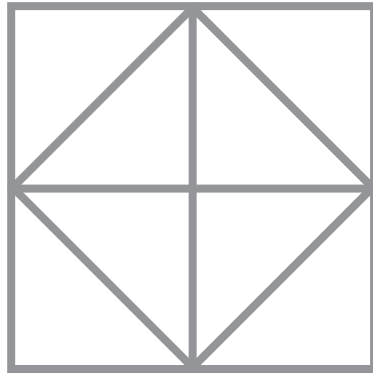
AGUZZA LA VISTA

COMPLETA COME L'ORIGINALE.











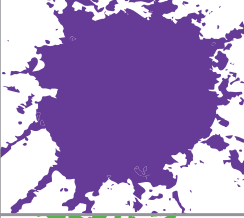


LE FORME SIMILI

■ COMPLETA COME LA FIGURA DATA.



LE FORBICI E TANTA CONCENTRAZIONE


- RITAGLIA OGNI FIGURA CHE TROVERAI A FINE LIBRO E INCOLLALA NELLA PARTE CORRISPONDENTE DELLA TABELLA.



LABORATORIO: "LE FORBICI E TANTA CONCENTRAZIONE"

■ TI È PIACIUTA L' ATTIVITÀ? METTI UNA X SULLA EMOTICON CHE PREFERISCI.

 = MOLTO

 = ABBASTANZA

 = POCO




RITAGLIARE




INCOLLARE




CONTARE



CONCENTRARTI









ESSERE PRECISO



LA CREMA DELLA NONNA

PER PREPARARE LA CREMA A SARA, NONNA MIRIAM USA:

- 2 CUCCHIAI DI ZUCCHERO 
- 1 UOVO 
- 1 BICCHIERINO DI BURRO SCIOLTO 
- 3 CUCCHIAI DI CACAO 
- 1 BUSTINA DI VANILLINA 
- 2 TAZZINE DI LATTE 

IN UNA CIOTOLA LA NONNA MESCOLO TUTTI GLI INGREDIENTI, POI VERSA IL COMPOSTO IN UN TEGAME E METTE SUL FORNELLO A FIAMMA BASSA. MENTRE CONTINUA A MESCOLORE LA CREMA SI ADDENSA E FINALMENTE È PRONTA!

GIOVEDÌ PROSSIMO DALLA NONNA C'È ANCHE SIMONE. AIUTA TU LA NONNA A PREPARARE LA CREMA PER SARA E SIMONE **RADDOPPIANDO** LE DOSI.

■ COMPLETA E DISEGNA LE NUOVE DOSI.

CUCCHIAI DI ZUCCHERO

BICCHIERINI DI BURRO SCIOLTO

BUSTINE DI VANILLINA

UOVA


CUCCHIAI DI CACAO

TAZZINE DI LATTE



LABORATORIO: "LA CREMA DELLA NONNA"

■ TI È PIACIUTA L' ATTIVITÀ? METTI UNA X SULLA EMOTICON CHE PREFERISCI.


 = MOLTO

 = ABBASTANZA



 = POCO




PESARE




MESCOLARE




CUCINARE




CONCENTRARTI



ASSAGGIARE



FORZA 10!





LE FORBICI E TANTA CONCENTRAZIONE





